

1. 国土地理院が発行する、土地の様子や状態を調べて作った地図を何というか。

{ 地形図 }

2. 2万5000分の1の縮尺の地図においての2cmは、実際の距離にして何kmか。

{ 0.5km }

3. ある地点から見た方角のことをなんというか。

{ 方位 }

4. 海面からの高さが同じ地点を結んだ線を何というか。

{ 等高線 }

5. 4の線には、細い主曲線と太い計曲線などの種類がある。2万5000分の1の縮尺と5万分の1の縮尺の地図において、主曲線と計曲線はそれぞれ何mごとに引かれるか答えよ。

2万5000分の1 主曲線 { 10m }

計曲線 { 50m }

5万分の1 主曲線 { 20m }

計曲線 { 100m }

6. 見通しの良い山頂などに設けられている、その場所の位置を図るための基準となる地点を何というか。




{ 三角点 }

7. 6の地図記号をかけ。

{  }

8. 以下の地図記号をかけ。

市役所 {  } 小・中学校 {  } 工場 {  }

警察署 {  } 田(水田) {  } 針葉樹林 {  }